

UNITÀ DI MISURA

La **GEOMETRIA** è il settore della matematica che studia la forma e la misura degli oggetti.

Come si possono misurare gli oggetti?

1. _____

2. _____

3. _____

Misuriamo con le mani la cattedra:

Numero di mani	Numero di bambini

Quante misure abbiamo trovato?

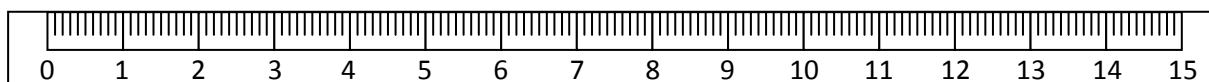
Come facciamo ad ottenere una misura precisa?

UNITÀ DI MISURA: IL METRO

L'uomo ha inventato un'unità di misura valida per tutti: il METRO.

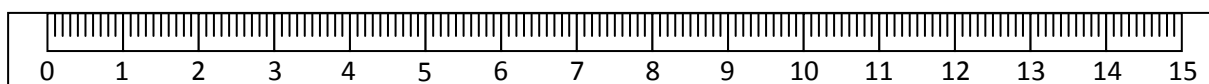
Il metro è stato suddiviso in decimetri, centimetri e millimetri.

IL DECIMETRO (dm)



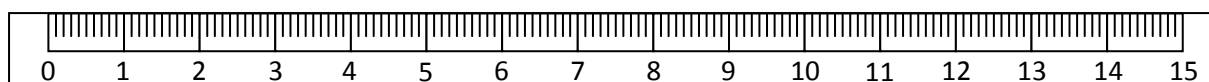
- Un metro è formato da _____ decimetri.
- Un decimetro è formato da _____ centimetri
- Un decimetro è formato da _____ millimetri.

IL CENTIMETRO (cm)



- Un metro è formato da _____ centimetri.
- Un centimetro è formato da _____ millimetri.

IL MILLIMETRO (mm)



- Un metro è formato da _____ millimetri.

DECIMETRO, CENTIMETRO, MILLIMETRO

Misura la lunghezza in centimetri e millimetri dei seguenti segmenti e riportale nella tabella.

A ————— B

G ————— H

E ————— F

C ————— D

Segmenti	AB	CD	EF	GH
Lunghezza in centimetri				
Lunghezza in millimetri				

Usa il righello per misurare i seguenti segmenti e riporta su ognuno la misura in cm. I segmenti lunghi 1 dm ripassali con il colore rosso.

—————

—————

—————

—————

—————

—————

—————